




数量

かぞえよう

		なまえ
がつ	にち	

かずを かぞえて、○に いろを ぬりましょう。



いぬの かず



○ ○ ○ ○ ○ ○ ○ ○ ○ ○

ねこの かず



○ ○ ○ ○ ○ ○ ○ ○ ○ ○



数量

かぞえよう

		なまえ
がつ	にち	

ふねの かずを かぞえて、○に いろを ぬりましょう。



○ ○ ○ ○ ○ ○ ○ ○ ○ ○

○ ○















数と数字

あうのは どれ

おうちの方へ 具体物(ここでは動物)と、数図(●)、数の言葉(数詞)、数字を対応させるおけいこです。線でつなく前に、それぞれの数を確認させてください。

		なまえ
がつ	にち	

かずと ことばと すうじが あう ように、
せんで つなぎましょう。

		さん	5
		ご	3
		に	1
		し (よん)	2
		いち	6
		ろく	4


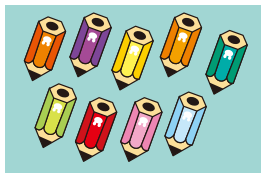


数と数字

あうのは どれ

		なまえ
がつ	にち	

かずと ことばと すうじが あう ように、
せんで つなぎましょう。



はち

9





く
(きゅう)

12



じゅうに

8





しち
(なな)

11



じゅういち

7



じゅう

10