











数の合成

ぜんぶで いくつ

		なまえ
がつ	にち	

クッキーの かずが、ぜんぶで 8こに なる ように、
 ●と ●を せて つなぎましょう。







補数

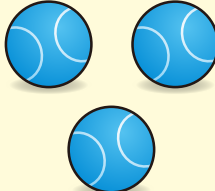

あと いくつ



おうちの方へ 2個あるから、あと何個で10個になるかと考えて、足りない数だけ、○に色をぬります。それぞれ何個足りないかを聞いてみるとよいでしょう。

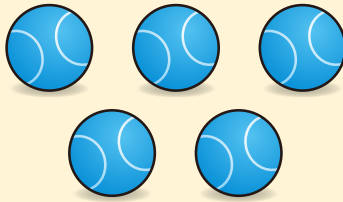

		なまえ
がつ	にち	



ぼうる
ボールの かが、ぜんぶで 10こに なる ように、
○に いろを ぬりましょう。

	
---	--

	
--	---

	
---	--

	
---	--

	
---	--



数系列

すうじの じゅんに つなごう

おうちの方へ 「何が出てくるかな？」などと声をかけて、想像させながら、線をつながせてください。

がつ	にち	なまえ
----	----	-----

1から じゅんに 30まで、•を せんで つなぎましょう。





数字

すうじを かこう

		なまえ
がつ	にち	

うすい すうじを なぞりましょう。

に すうじを かきましょう。



	13			
	14			
	15			
	16			
	17			
	18			