



数の増加

ふえると いくつ


		なまえ
がつ	にち	

いぬの かずは、ふえると みんなで いくつですか。 に
すうじを かきましょう。うすい すうじは なぞりましょう。



はじめの かず

5



ふえた かず

3

みんなで




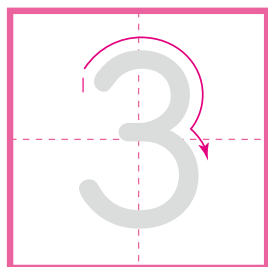
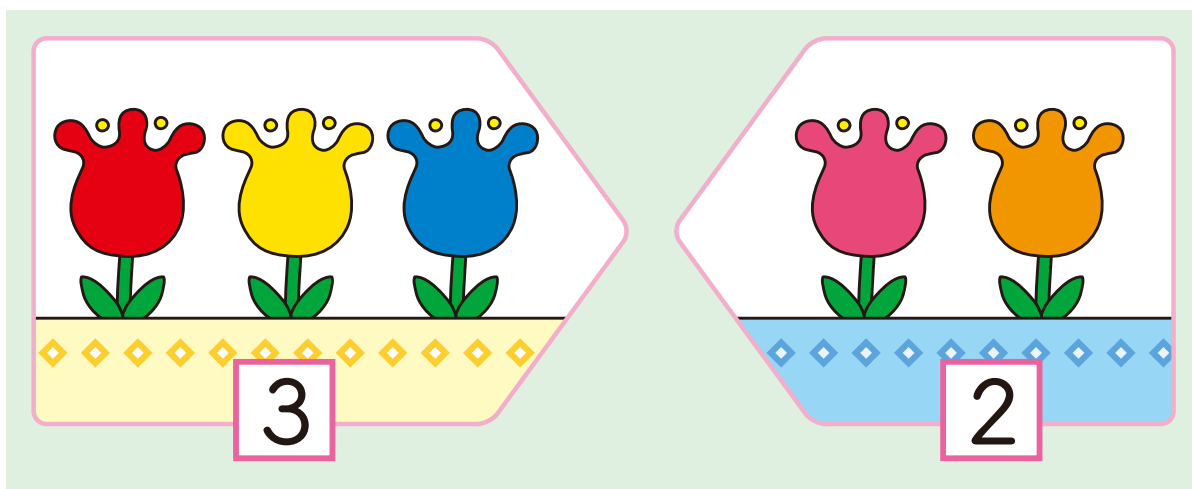
たし算

たしざんの しき


おうちの方へ「あわせていくつ」というたし算の場面を、式で表すおけいこです。

		なまえ
がつ	にち	


はなの かずは、あわせて いくつですか。  に
すうじを かきましょう。うすい すうじは なぞりましょう。



と



あわせて



これを、しきで かくと


よみかた **さん**

たす

に

は

$$3 + 2 =$$





数系列

すうじの じゅんに つなごう

おうちの方へ 1(いち)→2(に)→3(さん)と、声を出しながら、線をつないでいくとよいでしょう。

		なまえ
がつ	にち	

1から じゅんに 30まで、•を せんで つなぎましょう。




数字

すうじを かこう

		なまえ
がつ	にち	

うすい すうじを なぞりましょう。

に すうじを かきましょう。



19 <small>1 2</small>	19			
20 <small>1 2</small>	20			
21 <small>1 2</small>	21			
22 <small>1 2</small>	22			
23 <small>1 2</small>	23			
24 <small>1 2 3</small>	24			